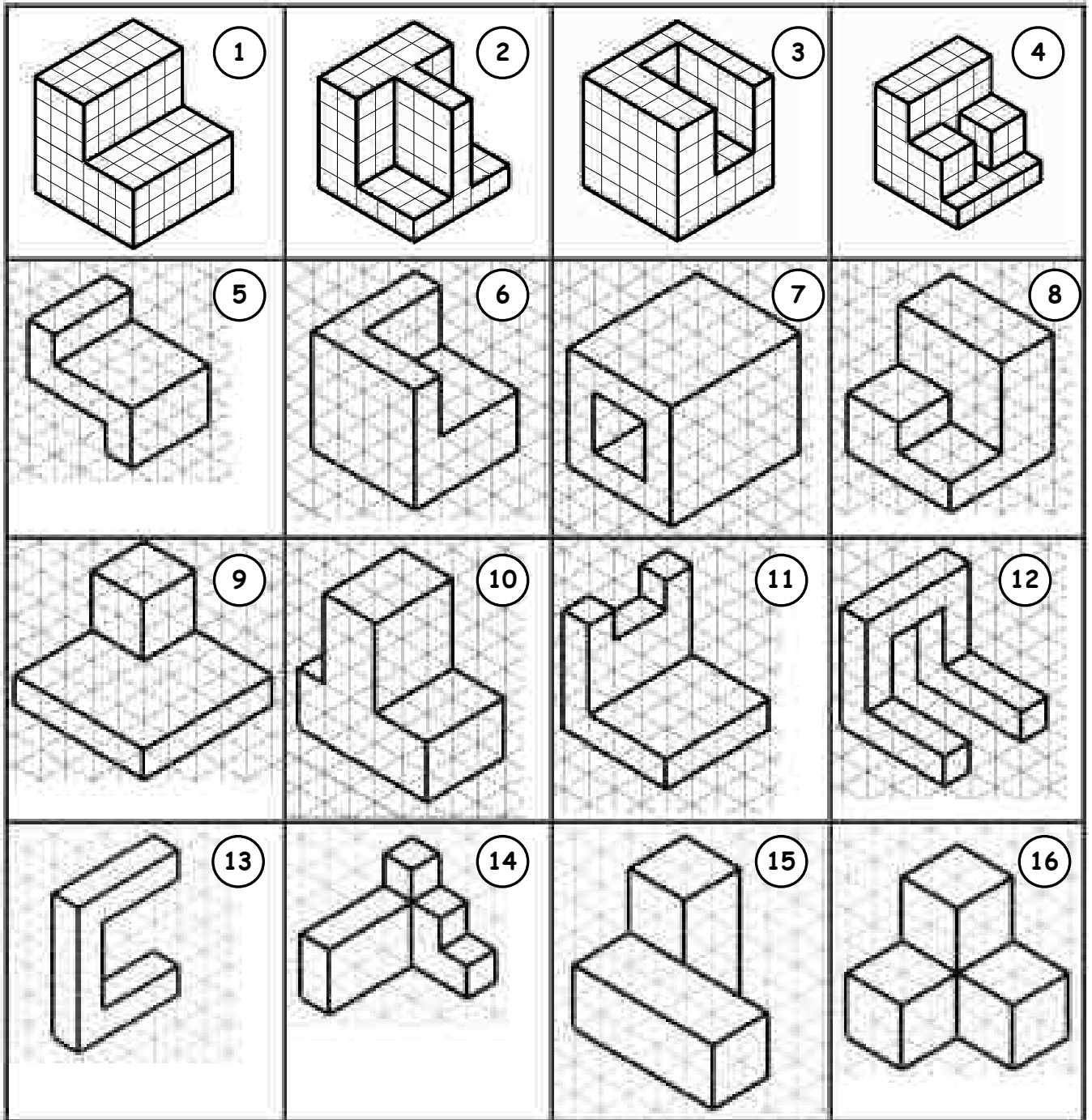


PERSPECTIVA CABALLERA

Actividad 5. Elabora las perspectivas caballerías de las siguientes figuras en papel cuadrículado.

Cada cuadrado que se indica en las figuras equivale en vuestro papel a dos cuadrados en las aristas frontales y a una diagonal de cuadrado en las aristas a 45°.

Se tomará como cara frontal la situada a la izquierda de la figura.

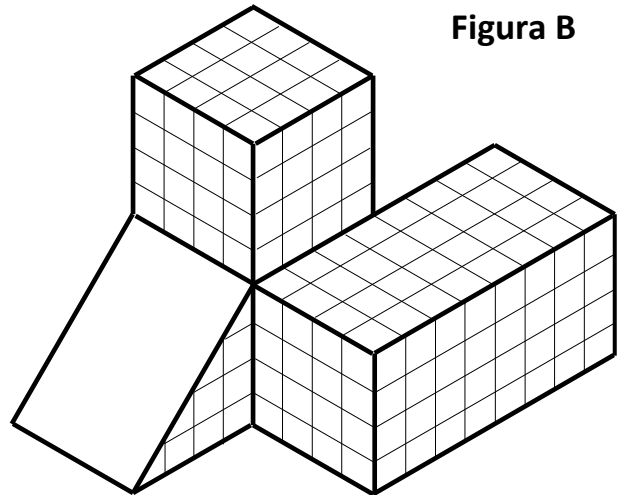
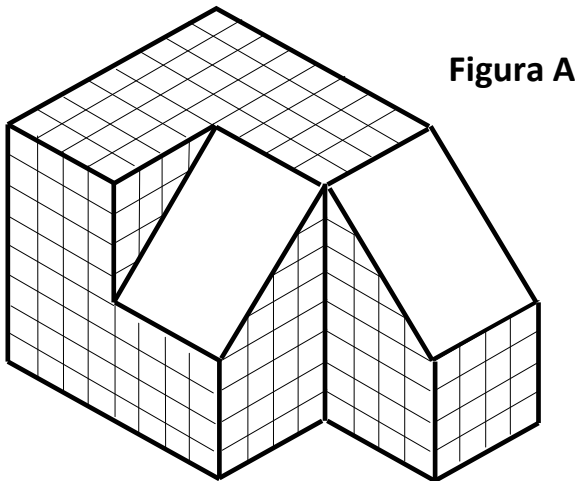


PERSPECTIVA CABALLERA CON CARAS OBLÍCUAS

Actividad 2. Elabora las perspectivas caballeras de las siguientes figuras en papel cuadrículado.

Cada cuadrito que se indica en las figuras equivale en vuestro papel a dos cuadrillos en las aristas frontales y a una diagonal en las aristas a 45° .

Se tomará como cara frontal la situada a la izquierda de la figura.



PERSPECTIVA ISOMÉTRICA

Actividad 3. Elabora las perspectivas isométricas de las siguientes figuras en papel pautado isométrico.

